



Сурагчийн нэр: .....

Эхэлсэн: ..... он ..... сар ..... өдөр









цэг.      хэрчим.      тахир шугам.      гурвалжин.      дөрвөлжин.      дугуй.

1 Хэдэн савхаар ямар дүрс үүсгэсэн бэ? Дүрсийг зураарай.

а.



3 савх




б.



..... савх






2 Дугуй, дөрвөлжин, гурвалжин дүрсийг тоолж, бичээрэй.




○ → ... 4.  
 □ → ...  
 △ → ...


3 Дараах юмсыг хэв болгон ашиглавал ямар дүрсүүд зурж болох вэ?



4 Гүйцээн зураад 3 гурвалжин, 5 дугуй, 4 дөрвөлжинг будаарай.



5 Мэддэг дүрсүүдээ зураарай.



Дууссан: .....сар .....өдөр

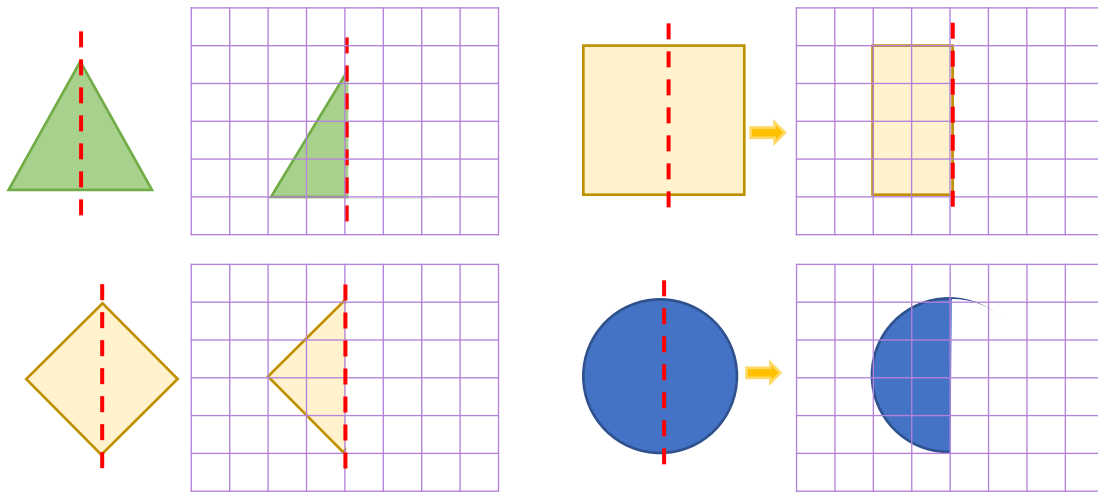
Даалгавар	1	2	3	4	5
Өөрийн үнэлгээ	😊	😊	😊	😊	😊



Сурагчийн нэр: .....

Эхэлсэн: ..... он ..... сар ..... өдөр


1 Дүрсүүдийг тэгш хэмтэй нугалжээ. Дэлгэсэн байдлаар гүйцээн зураарай.




2 Зүй тогтлыг ажиглаад, дараагийн хоёр дүрсийг зураарай.



3 Дүрсүүдийг ашиглан бүтээл хийгээрэй.



4 Цэг, хэрчим, тахир шугам ашиглан зохиомж зураарай.



Дууссан: .....сар .....өдөр



Даалгавар	1	2	3	4
Өөрийн үнэлгээ	😊	😊	😊	😊