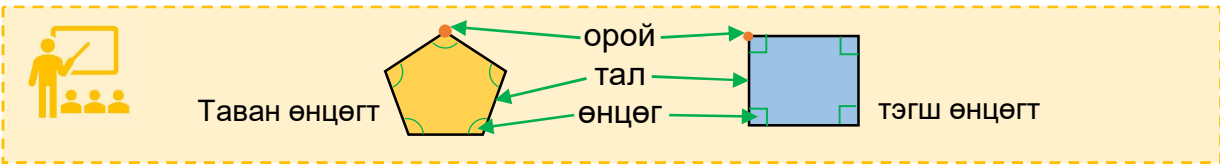


Сурагчийн нэр: .....

Эхэлсэн: ..... он ..... сар ..... өдөр



1 Дүрсийн нэрийг дугуйлаарай.



а. Дугуй б. Тэгш өнцөгт в. Квадрат г. Гурвалжин



а. Тэгш өнцөгт б. Гурвалжин в. Таван өнцөгт г. Дугуй



а. Дугуй б. Тэгш өнцөгт в. Квадрат г. Гурвалжин

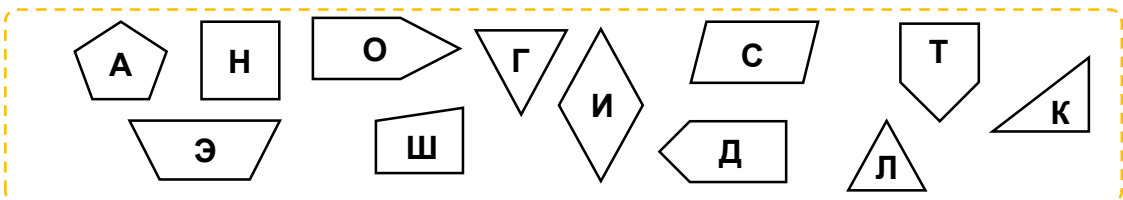


а. Дугуй б. Тэгш өнцөгт в. Олон өнцөгт г. Гурвалжин



а. Зургаан өнцөгт б. Тэгш өнцөгт в. Квадрат г. Гурвалжин

2 Үсгээр нэрлэсэн дүрсүүдийг ашиглан дараах даалгавруудыг хийгээрэй.



Тохирох дүрсүүдийн үсгийг бичээрэй.

а. Гурван талтай дүрс:

б. Дөрвөн талтай дүрс:

в. Таван өнцөгтэй дүрс:

г. Тэгш өнцөгтэй дүрс:

3 Дүрсүүдийг хэдэн өнцөгт болохыг бичээрэй.

а. Д дүрс

б. Н дүрс

в. К дүрс

Дууссан: .....сар .....өдөр



Даалгавар	1	2	3
Өөрийн үнэлгээ	<input type="radio"/>	<input type="radio"/>	<input type="radio"/>



Сурагчийн нэр: .....

Эхэлсэн: ..... он ..... сар ..... өдөр

Таван өнцөгт

тэгш өнцөгт

орой

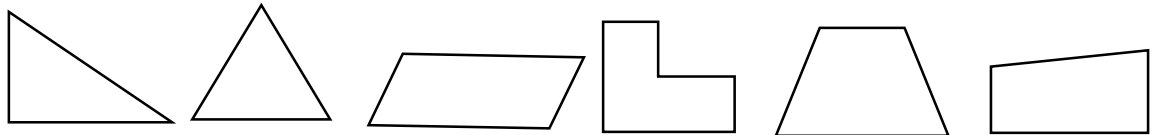
тал

өнцөг

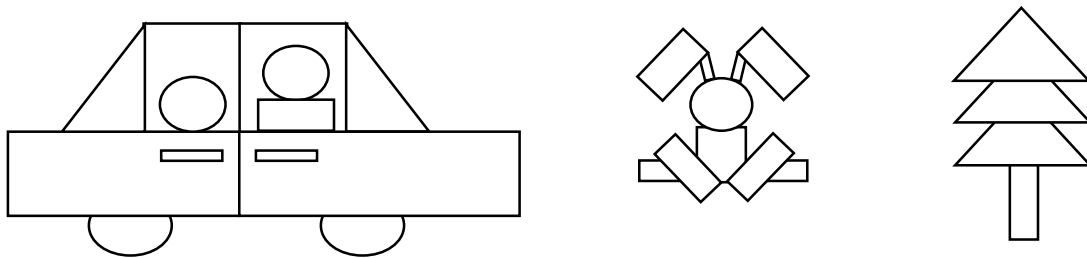
1 Дүрсийн тал, орой, өнцгийг тэмдэглээд тоог нөхөж бичээрэй.

Дүрс	Дүрсийн нэр	Талын тоо	Оройны тоо	Өнцгийн тоо

2 Дүрсүүдийн тэгш өнцгийг будаарай.



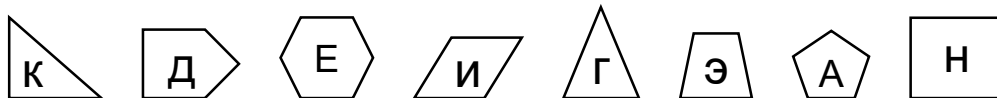
3 Тэгш өнцөгтүүдийг олж, будаад, тоолоорой.



Нийт хэдэн тэгш өнцөгт дүрс байна вэ?

4 Дүрсийг шинж чанараар ангилж, хүснэгтэд тохирох үсгийг бичээрэй.

	Дөрвөн талтай	Дөрвөн талтай биш
Тэгш өнцөгтэй	Н,	
Тэгш өнцөггүй	И,	



Дууссан: .....сар .....өдөр

Даалгавар	1	2	3	4
Өөрийн үнэлгээ				



Сурагчийн нэр: .....

Эхэлсэн: ..... он ..... сар ..... өдөр

1 Гурван талтай, гурван оройтой ямар дүрс байдаг вэ? зураарай.




2 Хоёр өнцөг нь тэгш байх дөрвөн талтай дүрс зураарай.



3 Дөрвөн өнцөг нь тэгш, бүх тал нь тэнцүү ямар дүрс байх вэ? зураарай.



4 Тэгш өнцөгтэй дүрс зураарай.



5 Дүрсээр зохиомж хийж, зураарай.



Дууссан: .....сар .....өдөр



Даалгавар	1	2	3	4	5
Өөрийн үнэлгээ	☹️	☹️	😊	😊	😊