

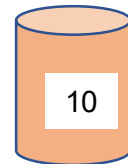

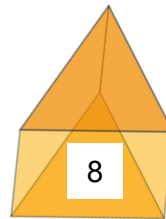
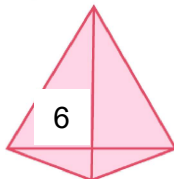
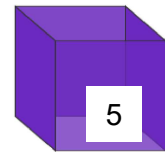
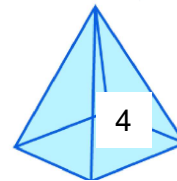
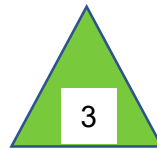
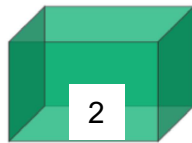



Сурагчийн нэр:

Эхэлсэн: он сар өдөр

	Призм	Куб	Параллелепипед		
	Пирамид				

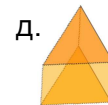
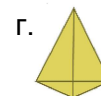
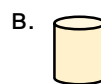
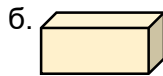
1 Биет ба дүрсийг ангилан дугаарыг бичээрэй.



Биет:

Дүрс:

2 Биетүүдэд нэрийг зөв харгалзуулаарай.



• Параллелепипед • Куб

• Гурвалжин призм

• Цилиндр

• Гурвалжин пирамид

3 Орчиндоо байгаа юмсыг ажиглан, биетүүдтэй төстэй 2-оос доошгүй юмсын нэрийг хүснэгтэд бичээрэй.

Дууссан:сарөдөр




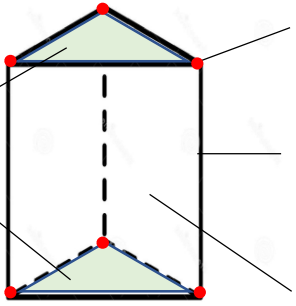
Даалгавар	1	2	3
Өөрийн үнэлгээ			



Сурагчийн нэр:

Эхэлсэн: он сар өдөр





Орой

Ирмэг

Хажуу талс

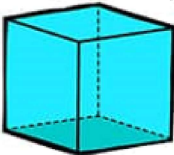
Нэр: Гурвалжин призм	
Орой	6
Ирмэг	9
Талс	5

Хажуу талсууд: Тэгш өнцөг

Суурь: Гурвалжин

Призмийн орой, ирмэг, талсын тоо болон талсуудын хэлбэрийг бичээрэй.

1

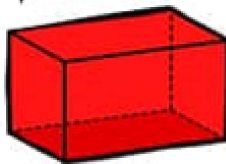


Куб	
Орой	
Ирмэг	
Талс	

Хажуу талс:

Суурь:

2

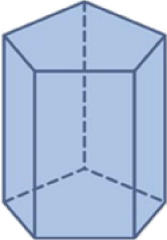


Тэгш өнцөгт параллелопипед	
Орой	
Ирмэг	
Талс	

Хажуу талс:

Суурь:

3

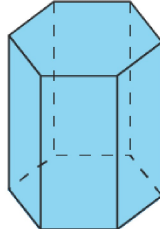


Таван өнцөгт призм	
Орой	
Ирмэг	
Талс	

Хажуу талс:

Суурь:

4

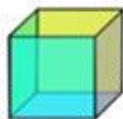


Зургаан өнцөгт призм	
Орой	
Ирмэг	
Талс	

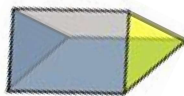
Хажуу талс:

Суурь:

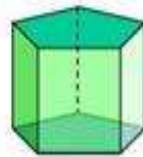
5 7 талст, 15 ирмэг, 10 оройтой байх призмийг сонгоорой.



А.



Б.



В.



Г.

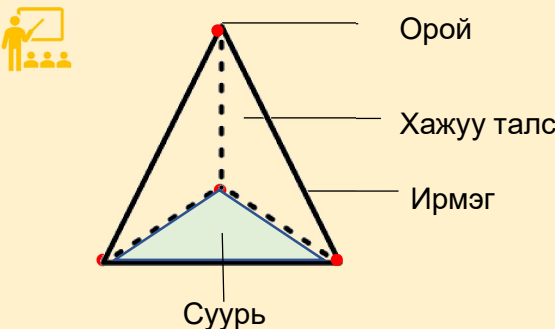
Дууссан:сарөдөр



Даалгавар	1	2	3	4	5
Өөрийн үнэлгээ	😊	😊	😊	😊	😊

Сурагчийн нэр:

Эхэлсэн: он сар өдөр




Нэр: Гурвалжин пирамид	
Орой	4
Ирмэг	6
Талс	4

Хажуу талсууд: Гурвалжин
Суурь: Гурвалжин

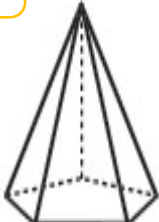
Пирамидын орой, ирмэг, талсын тоо болон талсуудын хэлбэрийг бичээрэй.

1



Нэр	Дөрвөн өнцөгт пирамид
Орой	
Ирмэг	
Талс	

2



Нэр	Таван өнцөгт пирамид
Орой	
Ирмэг	
Талс	

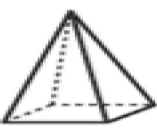
Хажуу талс:

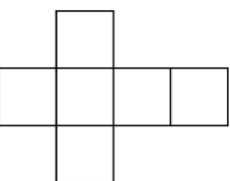
Суурь:

Хажуу талс:

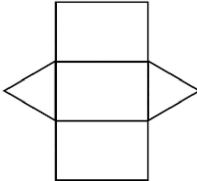
Суурь:

3 Дөрвөн өнцөгт пирамидын дэлгээсийг сонгоорой.

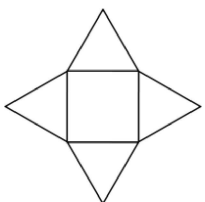




А.

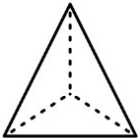


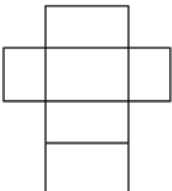
Б.




В.

4 Гурвалжин пирамидын дэлгээсийг сонгоорой.

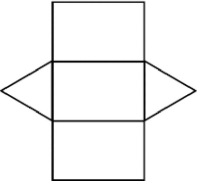




А.



Б.



В.

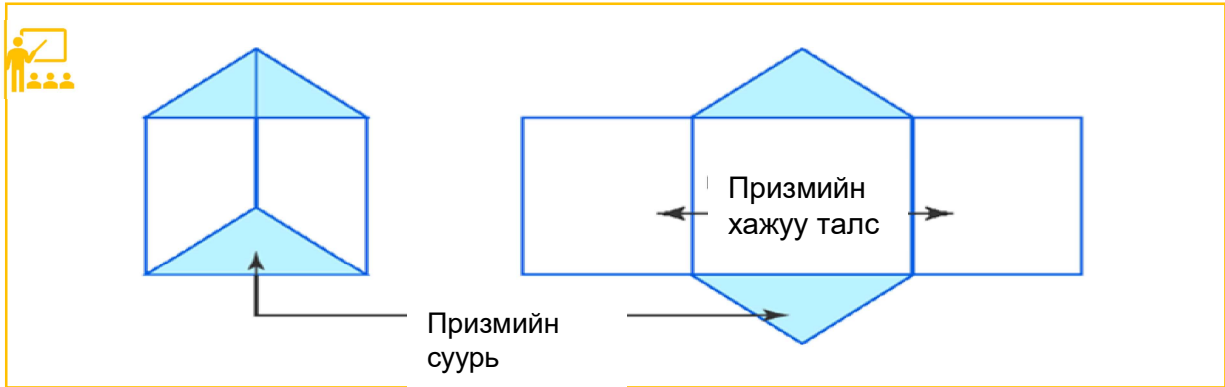
Дууссан:сарөдөр

Даалгавар	1	2.	3.	4.
Өөрийн үнэлгээ				

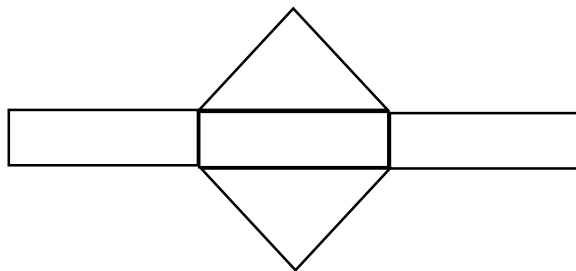


Сурагчийн нэр:

Эхэлсэн: он сар өдөр



1 Дэлгээст тохирох хайрцгийг сонгоорой.



А.



Б.

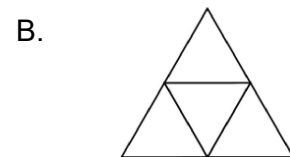
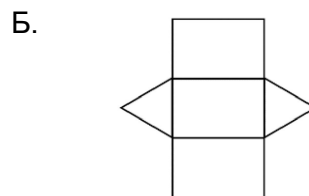
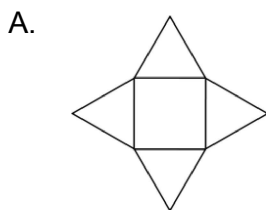


В.

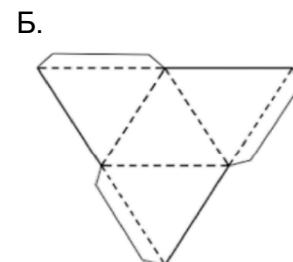
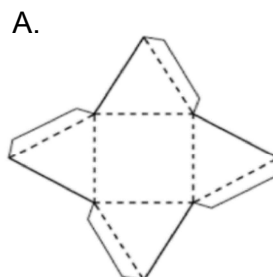


Г.

2 Пирамидын дэлгээсийг будаарай.



3 Хайрцагны дэлгээсийг сонгоорой.



Дууссан:сарөдөр




Даалгавар	1	2	3
Өөрийн үнэлгээ	☹️	😊	😊

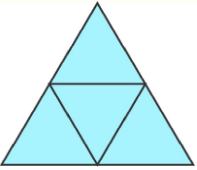


Сурагчийн нэр:

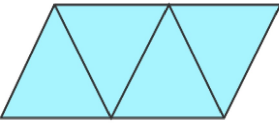
Эхэлсэн: он сар өдөр




Дэлгээс-1

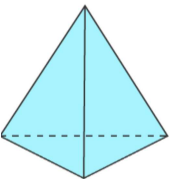


Дэлгээс-2



Зураасын дагуу
нугалаад

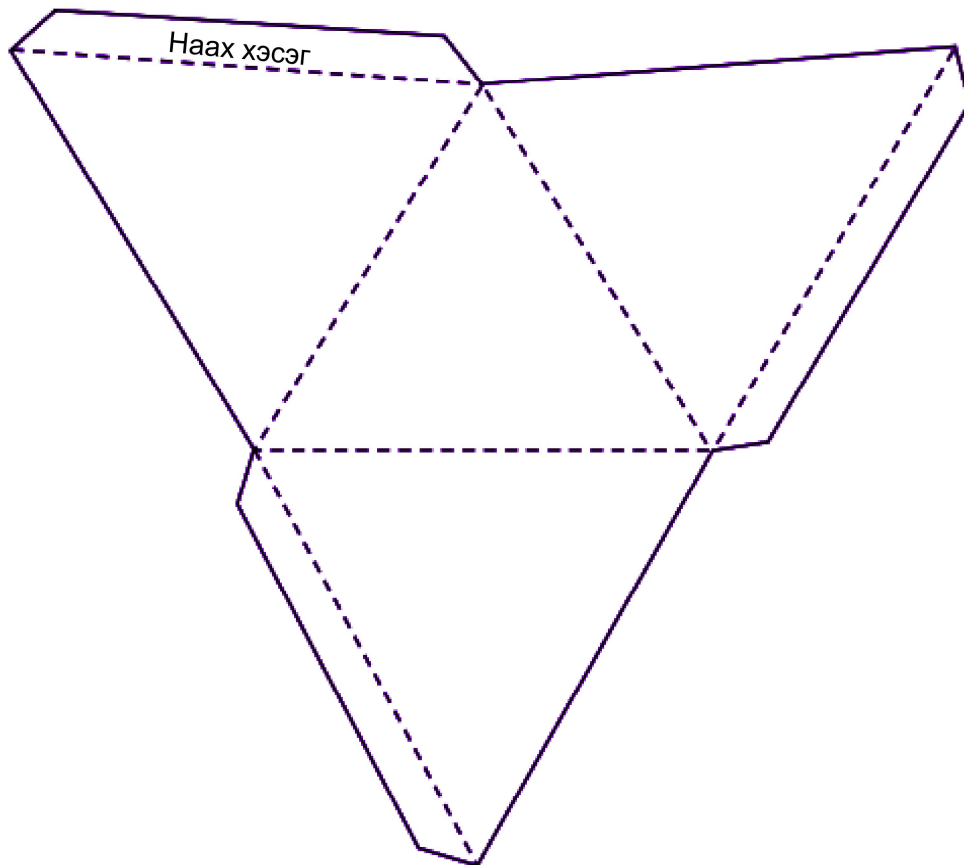




Гурвалжин пирамид

1) Пирамидыг дэлгээсээр бүтээгээрэй.

- а. Дэлгээсийг битүү шугамын дагуу
- б. Тасархай шугамын дагуу
- в. Наах хэсгүүдийг цавуудан, биетийг бүтээгээрэй.



Дууссан:сарөдөр



Даалгавар	а	б	в
Өөрийн үнэлгээ			



Сурагчийн нэр:

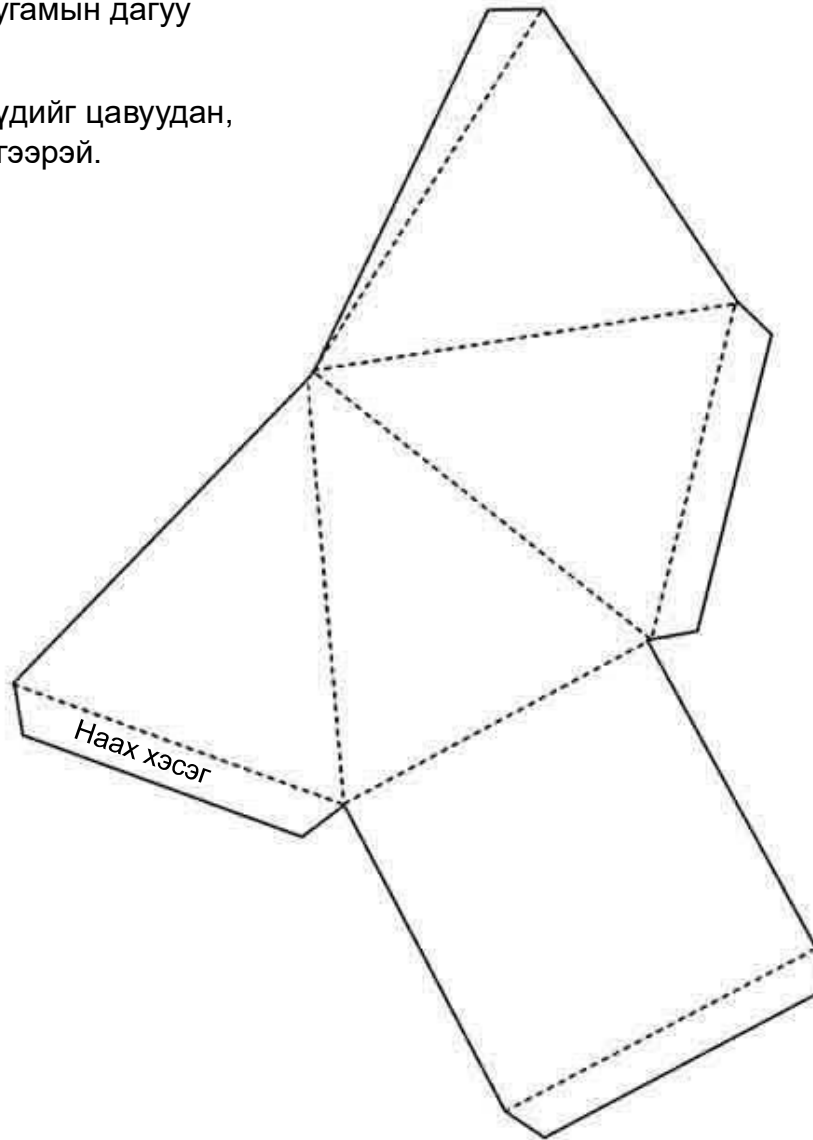
Эхэлсэн: он сар өдөр

1 Пирамидыг дэлгээсээр бүтээгээрэй.

а. Дэлгээсийг битүү шугамын дагуу хайчлаарай.

б. Тасархай шугамын дагуу нугалаарай.

в. Наах хэсгүүдийг цавуудан, биетийг бүтээгээрэй.



Дууссан:сарөдөр



Даалгавар	а	б	в
Өөрийн үнэлгээ			

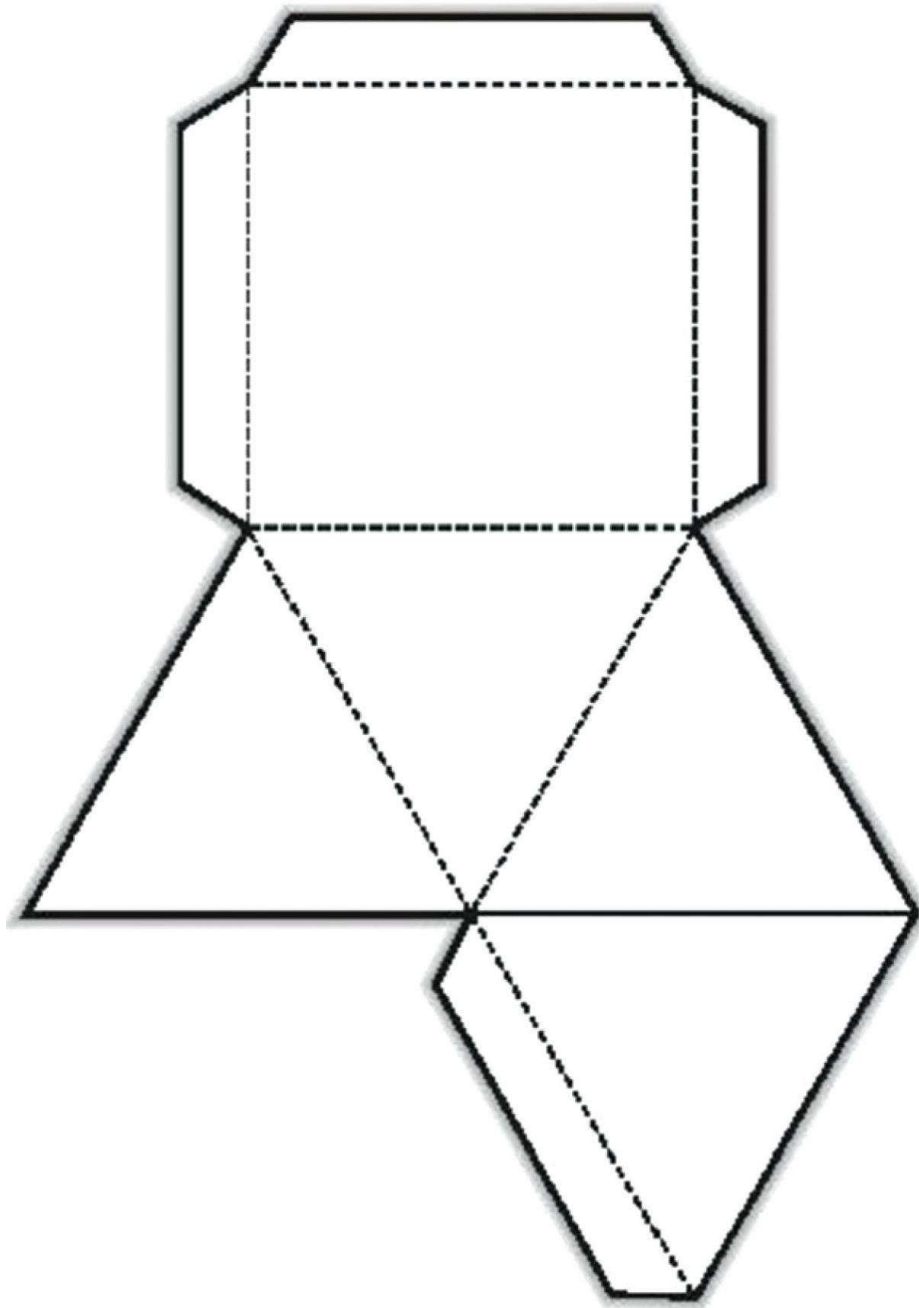


Сурагчийн нэр:

Эхэлсэн: он сар өдөр

1 Пирамидыг дэлгээсээр бүтээгээрэй.

- а. Дэлгээсийг битүү шугамын дагуу
- б. Тасархай шугамын дагуу
- в. Наах хэсгүүдийг цавуудан, биетийг бүтээгээрэй.



Дууссан:сарөдөр

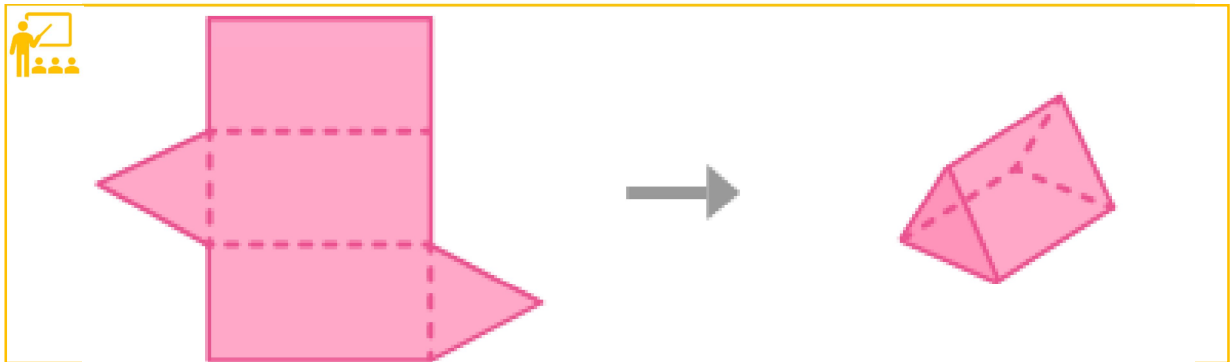


Даалгавар	а	б	в
Өөрийн үнэлгээ	😊	😊	😊



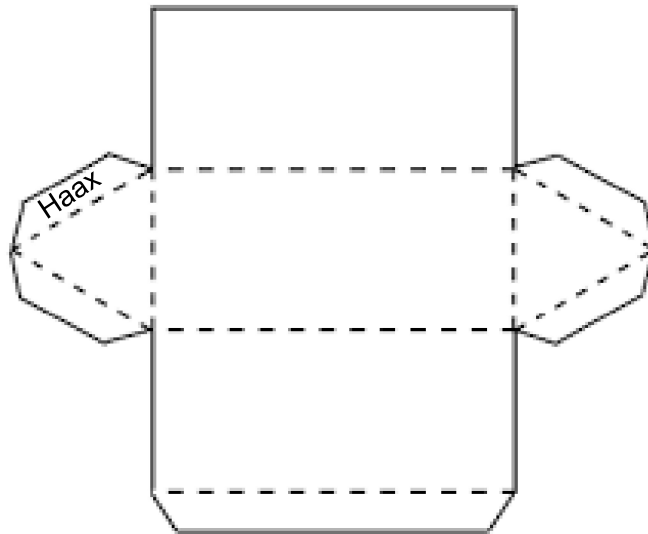
Сурагчийн нэр:

Эхэлсэн: он сар өдөр

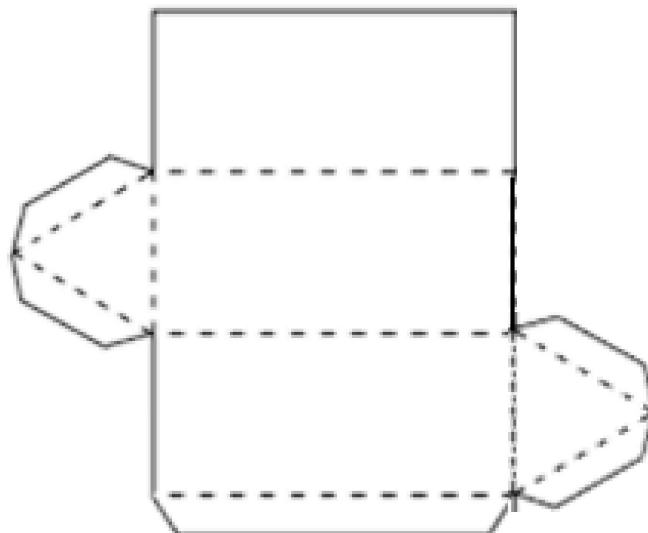


Дэлгээсийг битүү шугамын дагуу хайчлаад, гурвалжин пирамид бүтээгээрэй.

1



2



Дууссан:сарөдөр



Даалгавар	1	2
Өөрийн үнэлгээ		