
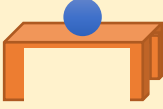





Сурагчийн нэр:

Эхэлсэн: он сар өдөр







ширээн дээр



доор




зүүн гар




баруун гар талд

1 Зургийг ажиглаад, зүг чиг, байршлыг тайлбарлан ярилцаарай.

а.





б.




2 Дугуй дүрсийг зааврын дагуу зураарай.








доод



баруун гар талд



зүүн гар талд

3 Гэрийн эргэн тойронд юу байж болох вэ? Зураарай.





Дууссан:сарөдөр



Даалгавар	1	2	3
Өөрийн үнэлгээ			