



Сурагчийн нэр:

Эхэлсэн: он сар өдөр

Юмсыг нэг шинжээр нь ангилахдаа хүснэгт хэрэглэдэг. Жишээ: 237, 256, 1825, 567, 835, 580, 51 тоог 5-д хуваагдах эсэхээр ангилъя.



5-д хуваагддаг тоо	5-д хуваагддаггүй тоо
1825, 835, 580	237, 256, 567, 51

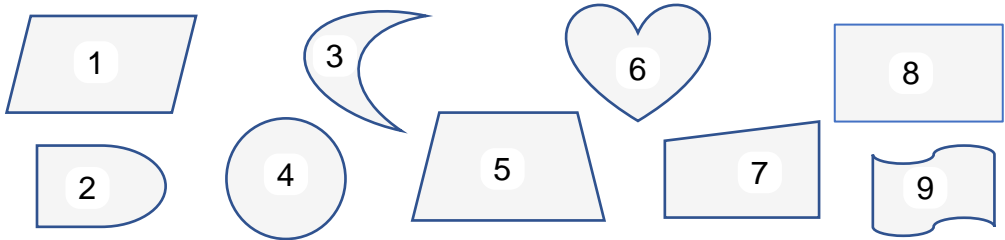
1 Дүрсүүдийг өгсөн шинжээр ангилж, хүснэгтэд дугаарыг бичээрэй.

а.

Тэгш хэмтэй дүрс	Тэгш хэмгүй дүрс

б.

Олон өнцөгт	Олон өнцөгт биш



2 Таван хошуу малын нэрийг уншаад, хүснэгтэд ангилж бичээрэй.

Хурга, азарга, ишиг, ботго, үнээ, тугал, ухна, унага, ингэ

а.

Бог мал	Бод мал

б.

Төл мал	Төл мал биш

3 Дүрсийн шинжийг хүснэгтэд бичиж, тэдгээр шинжээр ангилж бичээрэй.

Квадрат, тэгш өнцөгт, зөв 5 өнцөгт, дугуй, тойрог, тэгш өнцөгт гурвалжин

а.

Тэгш өнцөгт	Тэгш өнцөггүй

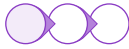
б.

Олон өнцөгт	Олон өнцөгт биш

Дууссан:сарөдөр



Даалгавар	1	2	3
Өөрийн үнэлгээ			



Сурагчийн нэр:

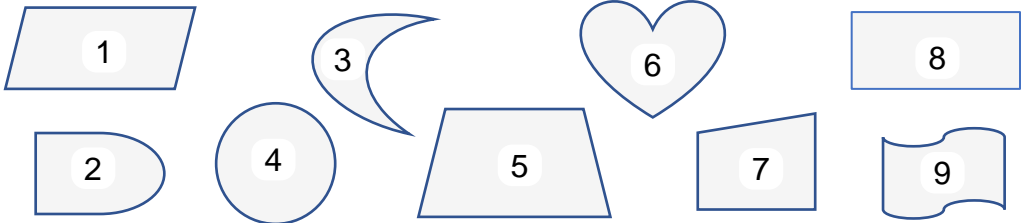
Эхэлсэн: он сар өдөр

Тоо, дүрс, юмсыг хоёр шинжээр нь дараах хүснэгт хэрэглэдэн ангилдаг.
Жишээ: 237, 256, 1825, 567, 835, 580, 51 тоонуудыг дараах 2 шинжээр ангилъя.

	50-д хуваагддаг	50-д хуваагддаггүй
2-д хуваагддаг	580	256
2-д хуваагддаггүй	1825, 835	237, 567, 51

1 Дүрсүүдийг ажиглаад, 2 шинжээр ангилж хүснэгтэд дугаарыг бичээрэй.

	Олон өнцөгт	Олон өнцөгт биш
Тэгш хэмтэй дүрс		
Тэгш хэмгүй дүрс		



2 Тоонуудыг дараах хоёр шинжээр нь ангилж, хүснэгтэд бичээрэй.

2300, 30060, 5470, 19025, 2580, 25255, 67850

	50-д хуваагддаг	50-д хуваагддаггүй
2-д хуваагддаг		
2-д хуваагддаггүй		

3 Таван хошуу малын нэрийг уншаад, хүснэгтэд ангилж бичээрэй.

Хурга, азарга, ишиг, ботго, үнээ, тугал, ухна, унага, ингэ

	Төл мал	төл мал биш
Бод мал		
Бог мал		

4 Хог хаягдлыг дэвтэртээ нэрлэж бичээд, хүснэгтэд 2 шинжээр ангилаарай.

Дууссан:сарөдөр



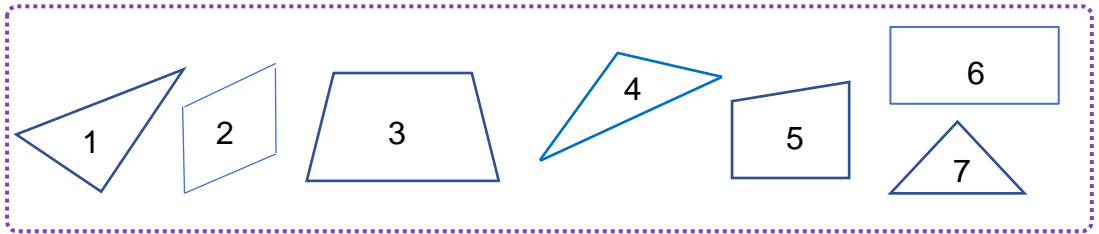
Даалгавар	1	2	3	4
Өөрийн үнэлгээ	😊	😊	😊	😊



Сурагчийн нэр:

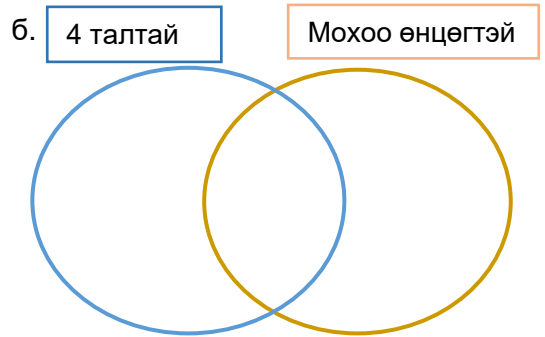
Эхэлсэн: он сар өдөр

1 Дүрсүүдийг ажиглан, өгсөн шинжүүдээр ангилж, дугаарыг бичээрэй.



а.

	3 талтай	4 талтай
Мохоо өнцөгтэй		
Мохоо өнцөггүй		

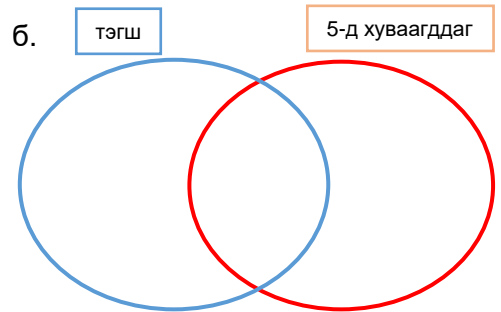


2 Өгсөн шинжүүдээр тоонуудыг ангилж, бичээрэй.

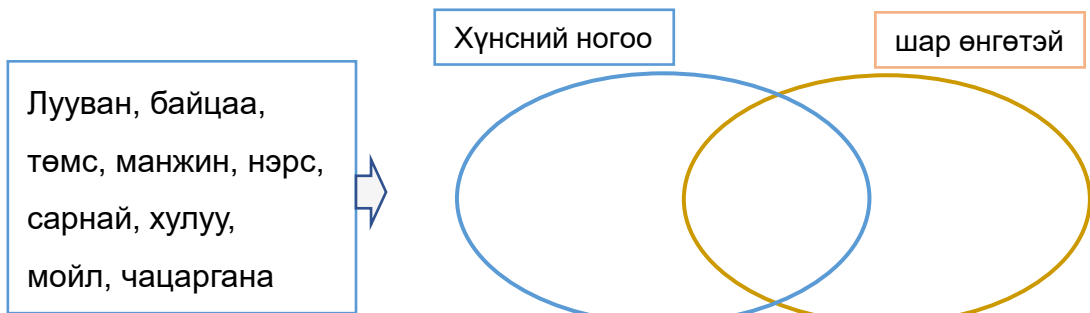
48, 56, 79, 5432, 123, 125, 1000

а.

	тэгш	сондгой
5-д хуваагддаг		
5-д хуваагддаггүй		



3 Хашаанд тарьсан жимс, хүнсний ногоог дараах шинжүүдээр ангилаарай.



Дууссан:сарөдөр



Даалгавар	1	2	3
Өөрийн үнэлгээ			