

Сурагчийн нэр:

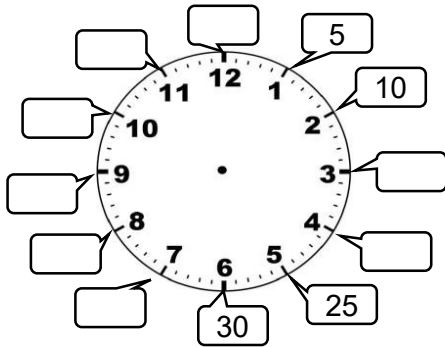
Эхэлсэн: он сар өдөр




1 жилд = 12 сар
1 жилд = 365 хоног, 366 хоног
1 хоногт = 24 цаг

1 цагт = 60 минут
1 минутад = 60 секунд

1 а. Минутаар уншиж, нөхөж бичээрэй. б. Зургийг цагтай холбоорой.



2 Хэдэн цаг болж байна вэ? Бичээрэй.



13 : 45



: :



: :



: :



: :

3 Өгсөн хугацааг дүрсэлж харуулаарай.

14 : 35



15 : 40



19 : 15



21 : 45



22 : 10



4 Цагийг уншаад нөхөж бичээрэй.



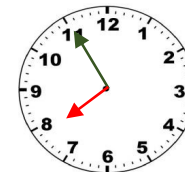
14 цаг болоход
... минут дутуу
байна.



3 цагаас ...
минут өнгөрч
байна.



10 цагаас ...
минут өнгөрч
байна.



20 цаг болоход
... минут дутуу
байна.

Дууссан:сарөдөр



Даалгавар	1	2	3	4
Өөрийн үнэлгээ	😊	😊	😊	😊

Сурагчийн нэр:

Эхэлсэн: он сар өдөр



1 жилд = 12 сар
1 жилд = 365 хоног
1 хоногт = 24 цаг

1 цагт = 60 минут
1 минутад = 60 секунд

1 Шилжүүлээрэй.

а. 2 цаг 25 мин = ___ сек

2 хон 5 цаг = ___ цаг

2 жил 7 сар = ___ сар

2 мин 20 сек = ___ сек

б. 68 сек = ___ мин ___ сек

29 цаг = ___ хон ___ цаг

370 хон = ___ жил ___ хон

17 сар = ___ жил ___ сар

в. 5 цаг = ___ минут

2 жил = ___ сар

2 хоног = ___ цаг

2 жил = ___ хоног

6 мин = ___ сек

3 хоног = ___ цаг

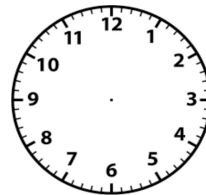
2 Бодлого бүрийг анхааралтай уншаад, үйл явдал дууссан болон эхэлсэн хугацааг дүрслээрэй

а. Хүү 8:20-д өглөөний цайгаа ууж эхлэв. Тэр 15 минутын турш өглөөний цайгаа уусан бол хэдэн цагт дууссан бэ?

б. Охин 25 минутын турш гэрийн даалгавраа хийсэн ба хийж дуусаад цагаа харахад 14:20 болсон байв. Охин хэдэн цагт гэрийн даалгавраа хийж эхэлсэн бэ?



___ цагт дууссан.



___ цагт эхэлсэн.

3 2022 оны 2-р сарын цаг тооны бичгийг ашиглан асуултад хариулаарай.

Да Мя Лх Пү Ба Бя Ня

 1 2 3 4 5 6

7 8 9 10 11 12 13

14 15 16 17 18 19 20

21 22 23 24 25 26 27

28

 Сар шинийн баярын өдөр

а. Энэ сар хэд хоногтой байна вэ?

б. Хэдэн долоо хоног байна вэ?

в. Хичээлийн хэдэн өдөр байна вэ?

г. Энэ сард хэдэн цагийн хичээлтэй байна вэ?

Дууссан:сарөдөр



Даалгавар	1	2	3
Өөрийн үнэлгээ	<input type="radio"/>	<input type="radio"/>	<input type="radio"/>