



Сурагчийн нэр:

Эхэлсэн: он сар өдөр


1) Аналоги цагийн зааж буй цагийг бичээрэй.




:



:



:



: 3 : 48



:

2) Тохиолдол бүрд цагуудыг дижитал цаг дээр хэрхэн харуулах вэ? Бичээрэй.

а. 3 цаг 20 минут.

г. 12 цагаас 10 минут өнгөрч байна.

б. 7 цаг 30 минут.


д. 17 цагт 15 минут дутуу байна.

в. 20 цагаас 45 минут өнгөрч байна.


е. 22 цагт 28 минут дутуу байна.

а. : б. : в. : г. : д. : е. :


3) Аналоги цагийн зааж буй цаг, минут, секундыг бичээрэй.




: : 3 : 00 : 37




:



:



:



:

4) Өгсөн цагуудыг аналогич цаг дээр цаг болон минутын зүүг дүрслэн харуул.



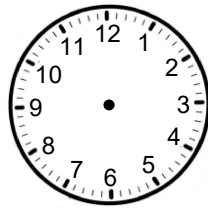

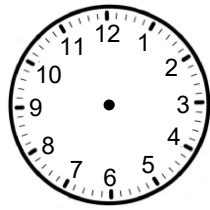
а. 5 : 00

б. 2 : 30

в. 10 : 25

г. 20 : 55

д. 16 : 43



5) Өгсөн цагуудыг аналогич цаг дээр цаг, минут, секундын зүүг дүрслэн харуул.



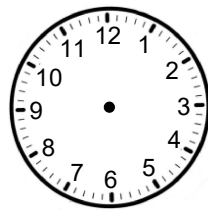
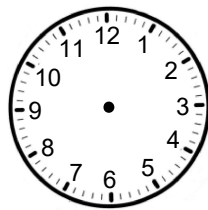

а. 3 : 30 : 00

б. 21 : 10 : 05

в. 9 : 40 : 20

г. 19 : 35 : 18

д. 12 : 20 : 32



Дууссан:сарөдөр



Даалгавар	1	2	3	4	5
Өөрийн үнэлгээ					

Сурагчийн нэр:

Эхэлсэн: он сар өдөр



1 зуун = 100 жил, 1 жил = 12 сар, 1 хоног = 24 цаг, 1 улирал = 3 сар

1) Сараар илэрхийлээрэй. Жишээ: 4 улирал = (4×3) сар = 12 сар

- а. 1 улирал = _____ г. 2 жил = _____
 б. 2 улирал = _____ д. 3 жил = _____
 в. 5 улирал = _____ е. 10 жил = _____

2) Жилээр илэрхийлээрэй. Жишээ: 4 зуун = (4×100) жил = 400 жил

- а. 2 зуун = _____ г. 13 зуун = _____
 б. 5 зуун = _____ д. 19 зуун = _____
 в. 10 зуун = _____ е. 21 зуун = _____

3) Зуунаар илэрхийлээрэй. Жишээ: 400 жил = $(400 \div 100)$ зуун = 4 зуун

- а. 100 жил = _____ г. 600 жил = _____
 б. 300 жил = _____ д. 900 жил = _____
 в. 500 жил = _____ е. 1000 жил = _____

4) Цагаар илэрхийлээрэй. Жишээ: 5 хоног = $(5 \times 20 + 5 \times 4)$ цаг = 120 цаг

- а. 2 хоног = _____ г. 6 хоног = _____
 б. 3 хоног = _____ д. 7 хоног = _____
 в. 4 хоног = _____ е. 10 хоног = _____

5) Сараар илэрхийлээрэй.

Жишээ: 3 жил 2 сар = (3×12) сар + 2 сар = $(36 + 2)$ сар = 38 сар

- а. 1 жил 6 сар = _____
 б. 2 жил 4 сар = _____
 в. 10 жил 7 сар = _____

6) Цагаар илэрхийлээрэй.

Жишээ: 2 хоног 12 цаг = (2×24) цаг + 12 цаг = $(48 + 12)$ цаг = 60 цаг

- а. 1 хоног 15 цаг = _____
 б. 2 хоног 9 цаг = _____
 в. 3 хоног 20 цаг = _____

Дууссан:сарөдөр



Даалгавар	1	2	3	4	5	6
Өөрийн үнэлгээ	😊	😊	😊	😊	😊	😊

Сурагчийн нэр:

Эхэлсэн: он сар өдөр



1 цаг = 60 минут, 1 минут = 60 секунд, 1 жаран = 60 жил

1 Мэдэгдэхгүй байгаа тоог олоорой.

а.

Хуваагдагч	48	60	36	42	18	30	12	54	24
Хуваагч	6	10			6	6			6
Ногдворын утга			6	6			6	6	

б.

Хуваагдагч	240	300	540	480	360	420	180	600	120
Хуваагч	4	5	60			60			60
Ногдворын утга				60	60		60	60	

в.

Үржигдэхүүн	60	60	60	9	6	3	60	7	60
Үржигдэхүүн	2	5	8	60	60	60	4	60	10
Үржвэрийн утга				540					

2 Минутаар илэрхийлээрэй. Жишээ: 3 цаг = (3×60) минут = 180 минут

- а. 1 цаг = _____ г. 4 цаг = _____
 б. 5 цаг = _____ д. 9 цаг = _____
 в. 3 цаг = _____ е. 10 цаг = _____

3 Секундээр илэрхийлээрэй. Жишээ: 3 минут = (3×60) с = 180 с

- а. 2 минут = _____ г. 8 минут = _____
 б. 6 минут = _____ д. 11 минут = _____

4 Цагаар илэрхийлээрэй. Жишээ: 300 минут = $(300 \div 60)$ цаг = 5 цаг

- а. 600 минут = _____ г. 480 минут = _____
 б. 120 минут = _____ д. 360 минут = _____
 в. 180 минут = _____ е. 240 минут = _____

5 Жилээр илэрхийлээрэй.

- а. 6 жаран = _____ в. 7 жаран = _____
 б. 4 жаран = _____ г. 10 жаран = _____

6 Хэдэн жаран болохыг тооцоолоорой.

- а. 60 жил = _____ в. 300 жил = _____
 б. 420 жил = _____ г. 540 жил = _____


Дууссан:сарөдөр



Даалгавар	1	2	3	4	5	6
Өөрийн үнэлгээ	😊	😊	😊	😊	😊	😊

Сурагчийн нэр:

Эхэлсэн: он сар өдөр



1 цаг = 60 мин
1 мин = 60 с

6 цаг 25 мин + 2 цаг 20 мин =
6 цаг + 2 цаг + 25 мин + 20 мин
8 цаг + 45 мин = 8 цаг 45 мин

6 цаг 25 мин - 2 цаг 20 мин =
6 цаг - 2 цаг + 25 мин - 20 мин
4 цаг + 5 мин = 4 цаг 5 мин

1-ээс 6 дугаар даалгаварт өгсөн үйлдлийг гүйцэтгээрэй.

1 а. $460 + 890 =$ _____ в. $3203 + 2057 =$ _____ д. $7654 - 492 =$ _____
б. $1570 + 790 =$ _____ г. $425 - 295 =$ _____ е. $3568 - 1276 =$ _____

2 а. 4 цаг + 3 цаг = _____ цаг г. 7 цаг - 3 цаг = _____ цаг
б. 36 цаг + 14 цаг = _____ цаг д. 48 цаг - 18 цаг = _____ цаг
в. 24 цаг + 72 цаг = _____ цаг е. 93 цаг - 30 цаг = _____ цаг

3 а. 30 мин + 20 мин = _____ мин г. 30 мин - 20 мин = _____ мин
б. 15 мин + 41 мин = _____ мин д. 75 мин - 41 мин = _____ мин
в. 65 мин + 35 мин = _____ мин е. 120 мин - 85 мин = _____ мин

4 а. 1 цаг 40 мин + 10 мин = _____ цаг _____ мин
б. 5 цаг 45 мин - 25 мин = _____ цаг _____ мин
в. 2 мин 15 с + 30 с = _____ мин _____ с
г. 8 мин 57 с - 34 с = _____ мин _____ с

5 Жишээ: $4 \text{ мин } 36 \text{ с} + 3 \text{ мин } 21 \text{ с} = 4 \text{ мин} + 3 \text{ мин} + 36 \text{ с} + 21 \text{ с} = 7 \text{ мин } 57 \text{ с}$
а. $3 \text{ цаг } 20 \text{ мин} + 2 \text{ цаг } 27 \text{ мин} =$ _____
б. $6 \text{ цаг } 34 \text{ мин} + 4 \text{ цаг } 16 \text{ мин} =$ _____
в. $40 \text{ мин } 16 \text{ с} + 15 \text{ мин } 32 \text{ с} =$ _____

6 Жишээ: $4 \text{ мин } 36 \text{ с} - 3 \text{ мин } 21 \text{ с} = (4 \text{ мин} - 3 \text{ мин}) + (36 \text{ с} - 21 \text{ с}) = 1 \text{ мин } 15 \text{ с}$
а. $6 \text{ цаг } 50 \text{ мин} - 2 \text{ цаг } 30 \text{ мин} =$ _____
б. $7 \text{ цаг } 46 \text{ мин} - 4 \text{ цаг } 21 \text{ мин} =$ _____
в. $30 \text{ мин } 56 \text{ с} - 25 \text{ мин } 32 \text{ с} =$ _____

7 Хугацааг ижил нэгжээр илэрхийлэн үйлдлийг гүйцэтгээрэй.

а. $62 \text{ мин} + 1 \text{ цаг } 20 \text{ мин} =$ _____
б. $3 \text{ цаг } 50 \text{ мин} - 120 \text{ мин} =$ _____

Дууссан:сарөдөр



Даалгавар	1	2	3	4	5	6	7	8
Өөрийн үнэлгээ	😊	😊	😊	😊	😊	😊	😊	😊